

TEST DE EVALUARE PENTRU CLASA a V-a

PĂDUREA

1. *Încercuiește litera corespunzătoare răspunsului corect:*

1.1 Este adevărat despre ferigi:

- a. Sunt foarte răspândite în pădurile de foioase
- b. Preferă zonele umede și umbroase
- c. Sunt iubitoare de soare puternic

1.2 Pădurile sunt afectate negativ de:

- a. Variația temperaturilor din timpul anului
- b. Reducerea zgomotelor în orașele situate în apropierea pădurilor
- c. Exploatarea exagerată a lemnului

1 punct pentru fiecare răspuns corect = 2 puncte

2. *Completează spațiile lacunare cu specii de viețuitoare, astfel încât să realizezi lanțuri trofice:*

..... → iepure →

ghindă → → bufniță

copac → → pițigoii →

0,20 puncte pentru fiecare specie = 1 punct

3. *Citește cu atenție enunțurile de mai jos. Precizează dacă enunțurile sunt adevărate sau false, punând în spațiul liber litera A, pentru adevărat sau litera F, pentru fals :*

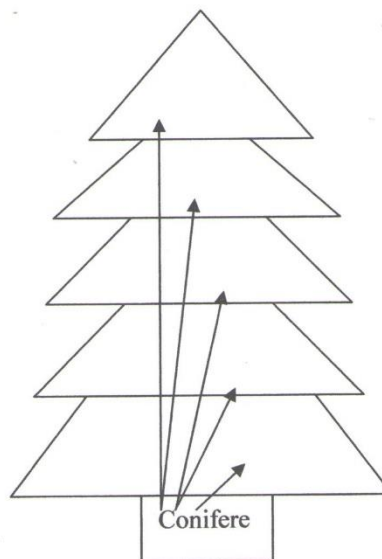
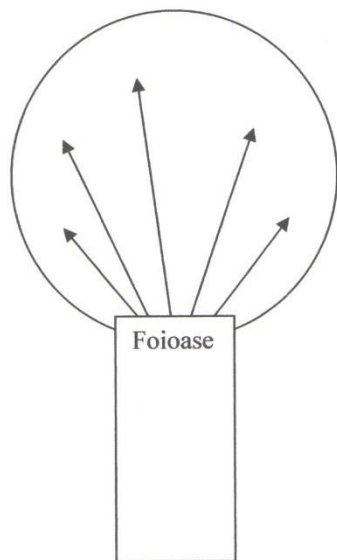
- Hribul de brad este o ciupercă comestibilă
- Frunzele bradului sunt lățițe și mari
- Dezvoltarea turismului are efecte pozitive asupra viețuitoarelor din pădure
- Zada (larița, laricele) este coniferul cu frunzele căzătoare

0,25 puncte pentru fiecare propoziție = 1 punct

Ant

4. Scrie în dreptul săgeților trasate în arborii de mai jos următoarele specii de plante și animale, încadrându-le în pădurea corespunzătoare:

forfecuța, cucul, cocoșul de munte, rădașca, privighetoarea, mătreața bradului, stejarul, molidul, bradul, fagul.



0,1 puncte pentru fiecare noțiune încadrată corespunzător = 1 punct

5. Anagramează literele, astfel încât să obții viețuitoare care trăiesc în pădure

ERICĂTONOCIA	ABAȘUCR	ȚABUNIF	DARALASMAN	LUPEV

0,20 puncte pentru fiecare cuvânt găsit = 1 punct

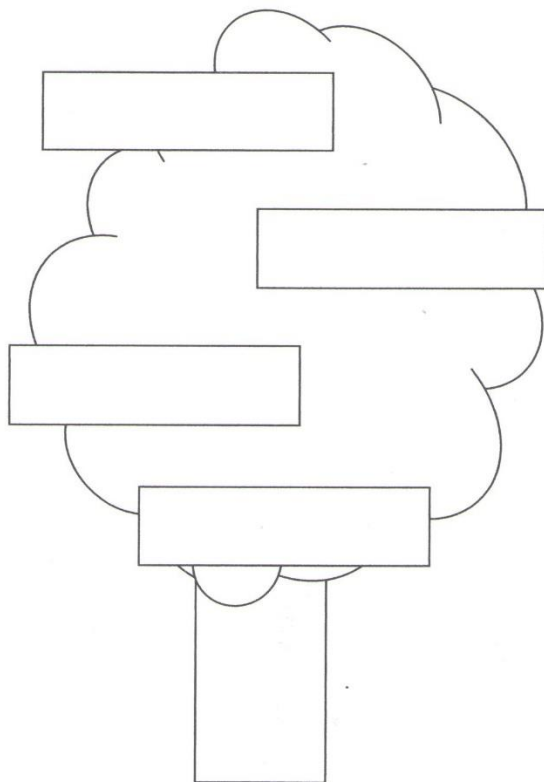
6. Încadrează organismele enumerate în categoriile trofice învățate:

căprioară, stejar, bacterii pe cadavre de animale, mușchi de pământ, iepure, lup, ciuperci microscopice care descompun frunze, vulpe, mesteacăn, mistreț

Producător	
Consumator erbivor	
Consumator carnivor	
Consumator omnivor	
Descompunător	

0,1 puncte pentru fiecare noțiune încadrată corespunzător = 1 punct

7. *Completează în coroana copacului de mai jos 4 modalități prin care putem proteja pădurile:*



0,50 puncte pentru fiecare regulă de protejare a pădurii= 2 puncte

Se acordă 1 punct din oficiu

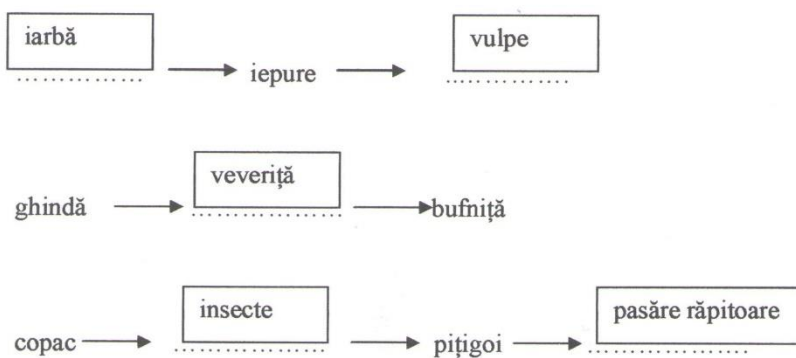
Timp de lucru: 50 de minute

Barem de corectare și notare

1.1 b

1.2 c

1 punct pentru fiecare răspuns corect = 2 puncte



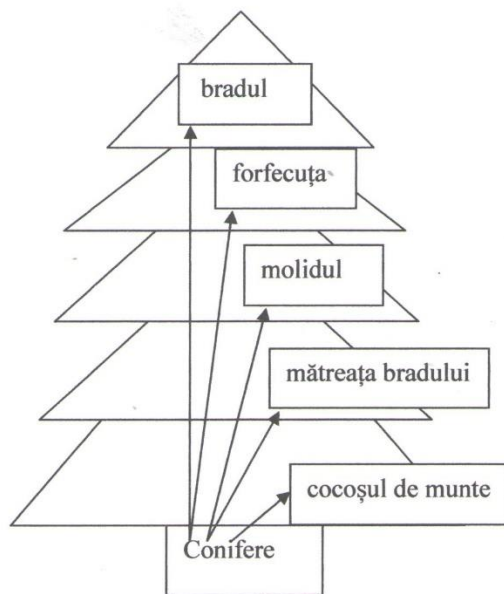
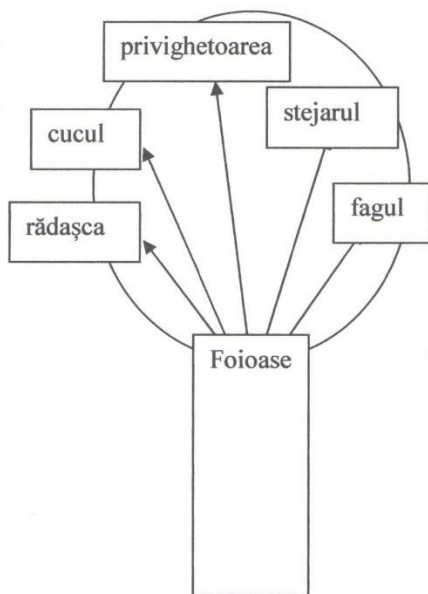
0,20 puncte pentru fiecare noțiune, astfel încât să rezulte un lanț trofic corect = 1 punct

Se acceptă orice altă variantă care duce la o rezolvare corectă.

3.

A	Hribul de brad este o ciupercă comestibilă
F	Frunzele bradului sunt lățite, mari
F	Dezvoltarea turismului are efecte pozitive asupra viețuitoarelor din pădure
A	Zada (larița, laricele) este coniferul cu frunzele căzătoare

0,25 puncte pentru fiecare propoziție = 1 punct



0,1 puncte pentru fiecare noțiune încadrată corespunzător = 1 punct

5.

ERICĂTONOCIA	ABAȘUCR	ȚABUNIF	DARALASMAN	LUPEV
CIOCĂNITOARE	CARABUȘ	BUFNIȚA	SALAMANDRA	VULPE

0,20 puncte pentru fiecare cuvânt găsit = 1 punct

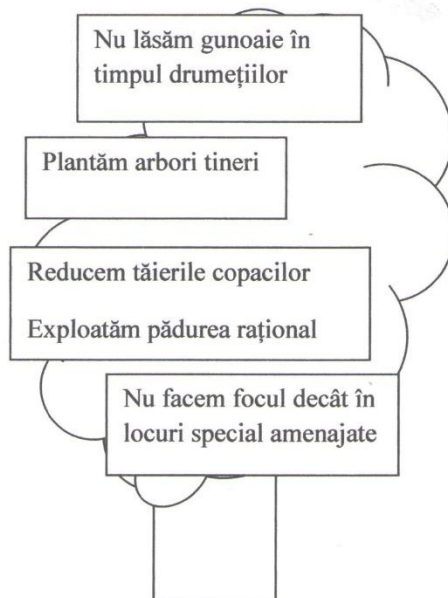
6.

Producător	<i>stejar, mușchi de pământ, mesteacăn</i>
Consumator erbivor	<i>căprioară, iepure</i>
Consumator carnivor	<i>lup, vulpe</i>
Consumator omnivor	<i>mistreț</i>
Descompunător	<i>bacterii pe cadavre de animale, ciuperci microscopice care descompun frunze</i>

0,1 puncte pentru fiecare noțiune încadrată corespunzător = 1 punct

Andrei

7.



0,50 puncte pentru fiecare explicație= 2 puncte

Se acceptă orice altă variantă care duce la o rezolvare corectă.

Se acordă 1 punct din oficiu

Total: 10 puncte